



ROTEIRO DE ESTUDOS – I ETAPA LETIVA

GEOGRAFIA – 5.º ANO/EF – 2018

Caro(a) aluno(a),

É tempo de rever os conteúdos estudados na I Etapa e esclarecer suas dúvidas. Com o estudo diário e a realização de exercícios, você poderá avançar nos seus conhecimentos.

Organizamos para você atividades que o(a) ajudarão a se preparar para a Avaliação de Recuperação.

Bons estudos!

I – CONTEÚDOS

SUJEITO E SEU LUGAR NO MUNDO

- Brasil no continente americano
- Dinâmica populacional
- Diferenças étnico-culturais e desigualdades sociais

CONEXÕES E ESCALAS

- Território, redes e urbanização

OBSERVAÇÃO

Para fazer as atividades a seguir, você poderá consultar:

- Livro *Presente: Geografia* – de Neuza Sanchez Guelli e Cíntia Nigro – 5.º Ano/EF
- Registros e atividades complementares do seu caderno de História.

II – ATIVIDADES

ATIVIDADE I

01.

O Brasil possui uma grande extensão territorial e, por isso, possui muitas características diferentes. Para ficar mais fácil conhecer, estudar e administrar o país, ele foi dividido em regiões.

Observe o mapa abaixo.

Brasil - Divisão Regional (IBGE)



- **PINTE**, no mapa, cada região do Brasil de uma cor diferente e **CRIE** a legenda.

02. **ASSINALE** com um (X) a resposta correta.

- Sobre as grandes regiões do Brasil, é correto afirmar:
 - () O Instituto Brasileiro de Geografia e Estatística (IBGE) dividiu as unidades federativas brasileiras em seis grandes regiões.
 - () De acordo com essa regionalização, o Brasil foi dividido nas seguintes regiões: Amazônia, Nordeste e Centro-Sul.
 - () A divisão regional, feita pelo IBGE, considerou características naturais e aspectos sociais semelhantes entre cada unidade federativa.
 - () Essa divisão regional não se preocupou em seguir os limites das unidades federativas.

03. A população de cada região brasileira apresenta costumes diferentes, como os hábitos alimentares. Os pratos listados abaixo são típicos de que região?

PRATO	REGIÃO BRASILEIRA
Cuzcuz, acarajé e vatapá.	
Açaí, peixe com açaí, tucumã.	
Churrasco, cuca, chimarrão.	
Feijoada, moqueca capixaba, pão de queijo.	
Arroz com pequi, pamonha salgada, chipa.	

04. Observe a imagem, que mostra o movimento de rotação da Terra.



- Responda:

a) Qual é a duração desse movimento?

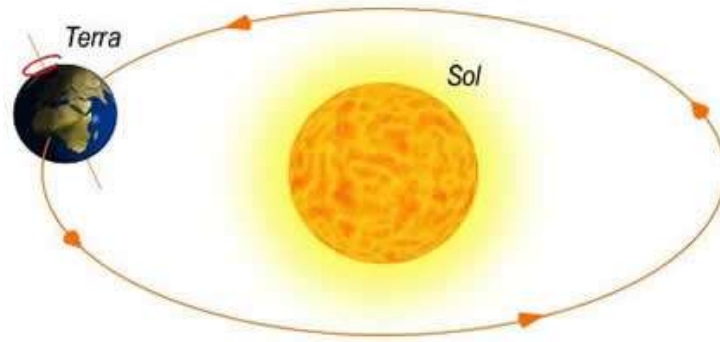
b) **MARQUE** com um (X) a resposta correta.

Qual é a posição do eixo terrestre?

Reta

Inclinada

05. Veja a ilustração abaixo, que mostra outro movimento da Terra.

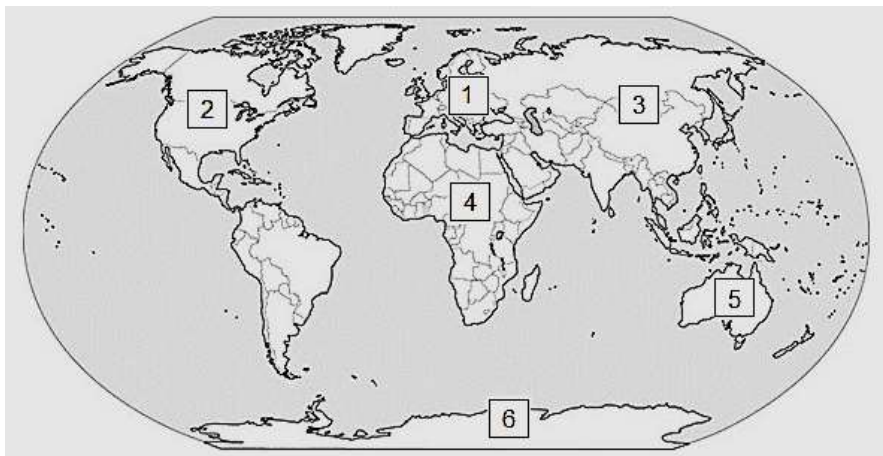


Fonte: <http://www.sogeografia.com.br>.

- **COMPLETE** o quadro.

Nome do movimento da Terra:	Duração do movimento:
O que o movimento determina:	

06. Observe o planisfério e faça o que se pede.



Fonte: <http://meucantinhodesugestes.blogspot.com.br>.

- PINTE** de verde, no planisfério acima, o Brasil.
- ESCOLHA** dois continentes mostrados no planisfério e **ESCREVA**, abaixo, os números e os nomes correspondentes a esses continentes.

ATIVIDADE II

01. Leia os seguintes versos da canção de Chico Buarque.



a) Quais são os estados brasileiros citados nesses versos?

b) De qual região brasileira são os parentes mencionados pelo compositor?

❖ O avô e o tataravô: _____

❖ O pai e o bisavô: _____

02. **IDENTIFIQUE** as regiões brasileiras, de acordo com as características de suas respectivas paisagens.

a) As suas belíssimas praias são procuradas por muitos turistas e sua cultura é um atrativo significativo. Nela se localiza o estado da Bahia, berço do Axé.

b) Os estados têm os pontos turísticos mais visitados do País. A cidade de São Paulo, no estado de São Paulo, é conhecida mundialmente, é o maior centro financeiro do país. _____

c) É muito lembrada por suas cidades históricas e colônias de influência européia. As cataratas do Iguaçu atrai muitos turistas. _____

d) O destino mais procurado pelos turistas é o Pantanal. Nesta região se localiza a capital do Brasil. _____

e) Nesta região se localiza Manaus, bem no centro da floresta amazônica, no encontro dos rios Negro e Solimões. A região vem recebendo grande número de ecoturistas.

03. Observe o mapa.

Brasil - Divisão Regional



Fonte: www.sogeografia.com.br.


a) **PINTE** o mapa de acordo com a legenda.




Região Norte / Verde



Região Nordeste / Vermelho



Região Centro-oeste / Laranja



Região Sudeste / Amarelo



Região Sul / Azul

b) Qual é a região brasileira mais extensa? _____

c) Qual oceano banha o Brasil? _____

ATIVIDADE III

01. Observe o mapa político do continente americano.



Fonte: <http://www.america-mapas.com/america.htm>.

ESCREVA (C) para as alternativas corretas e **(I)** para as incorretas sobre o continente americano.

- () A América é o maior continente do mundo.
- () A Bolívia faz parte da América do Sul e está no hemisfério Norte.
- () A América do Norte é formada por Canadá e Estados Unidos.
- () O continente americano é banhado pelos oceanos Atlântico e Pacífico.
- () O continente americano possui terras nos hemisférios Norte, Sul e Oeste.

02. Responda às perguntas sobre a localização do Brasil no continente americano.

a) Em qual porção do continente americano o nosso país se localiza?

b) Quais países dessa porção do continente não fazem fronteira com o Brasil?

_____ e _____

c) Quais são as linhas imaginárias (meridianos) que cortam o território brasileiro? _____

d) Qual é o oceano que banha o Brasil? _____

03. Observe o planisfério e faça o que se pede.



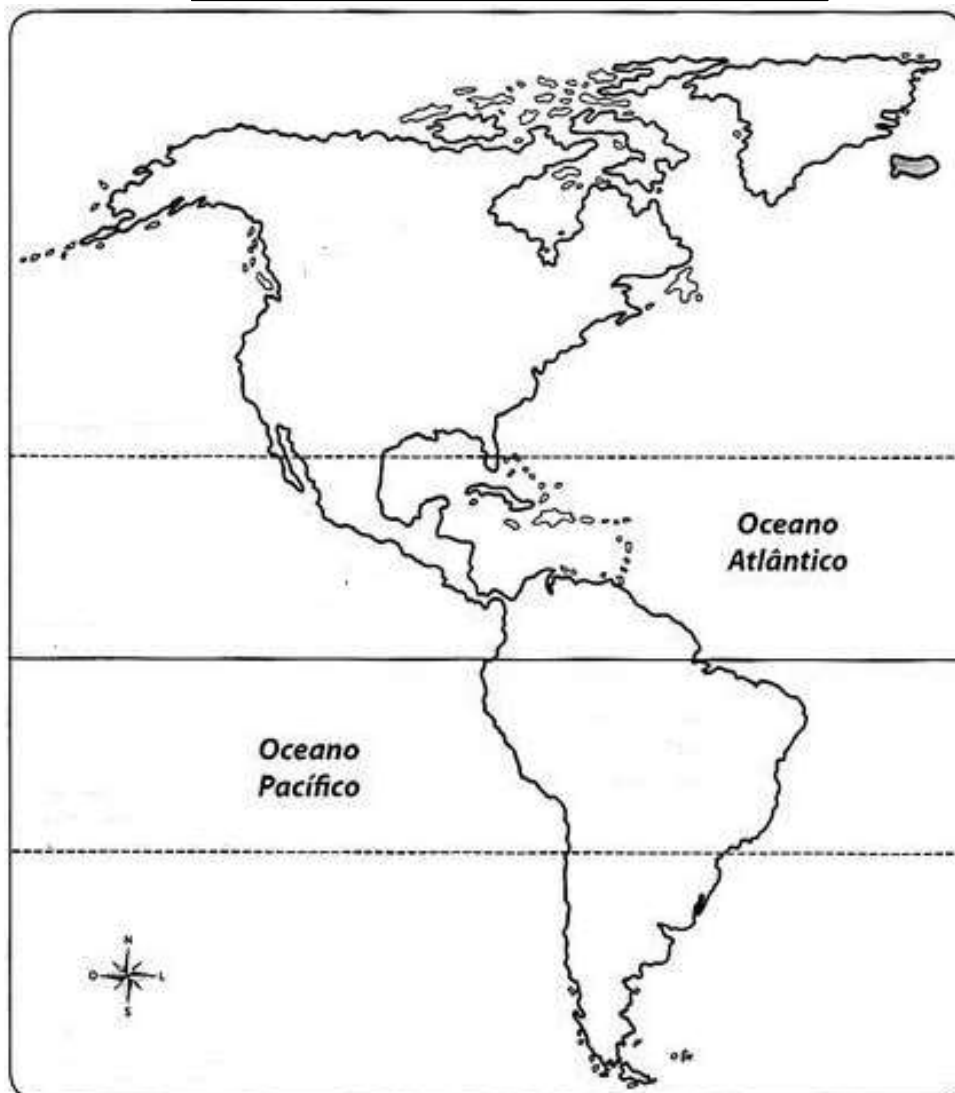
Fonte: www.sogeoografia.com.br.

- a) **MARQUE** de vermelho o meridiano que divide a Terra em hemisférios Leste e Oeste. Como se chama esse meridiano? _____
- b) **MARQUE** de verde o paralelo que divide a Terra em hemisférios Norte e Sul. Como se chama esse paralelo? _____

ATIVIDADE IV

01. Observe o mapa abaixo.

Continente Americano



Fonte: <www.sogeografia.com.br>.

- a) **ESCREVA**, no mapa, os nomes das linhas imaginárias que cortam o continente representado.

- b) **ESCREVA**, no mapa, as partes em que esse continente se divide.

02. Observe o mapa.



Fonte: <www.sogeografia.com.br>.

a) Faça o que se pede.

► **CITE** dois países que não são banhados por oceano.

► **PINTE**, no mapa, dois países que são banhados pelo oceano Pacífico.

b) **ESCREVA** os nomes de dois países que têm terras localizadas nos dois hemisférios determinados pela linha do Equador.

03. Leia as informações.

1	O estado do Mato Grosso do Sul reúne muitas belezas que geram surpresas tanto para brasileiros quanto para estrangeiros. São diversas regiões turísticas para curtir no estado sendo a mais conhecida a cidade de Bonito, bem próximo a região do Pantanal, considerada a maior planície alagável do mundo.
2	O Rio de Janeiro é uma das 26 unidades federativas do Brasil, sendo a terceira mais populosa, com mais de 8% dos habitantes brasileiros em sua área. Esse estado possui 92 municípios e sua capital é a cidade do Rio de Janeiro. Além da importância econômica, o Rio de Janeiro é um centro para o turismo internacional.
3	O Ceará é um estado de importantíssimo valor turístico para o Brasil. Ele possui belezas naturais encantadoras principalmente em sua faixa litorânea. Além de um litoral muito bonito, esse estado oferece aos turistas as belas praias, o ecoturismo e o turismo cultural e religioso.
4	Manaus é uma importante cidade e ponto turístico que se localiza na Floresta Amazônica onde se encontram os rios Negro e Solimões. Essa cidade é a mais populosa do estado <i>Amazonas</i> e de toda a <i>Amazônia</i> , com mais de 2,1 milhões de habitantes.
5	As Cataratas do Iguaçu são cercadas de florestas subtropicais e estão localizadas no Parque Nacional do Iguaçu, na cidade de Foz do Iguaçu, estado do Paraná. Em 1986, as cataratas, assim como o Parque Nacional do Iguaçu, foram declaradas como Patrimônio Natural da Humanidade.

NUMERE, no mapa, as regiões brasileiras, relacionando-as com as informações acima.



Fonte: www.mapasparacolorir.com.br.

ATIVIDADE V

01. Leia a informação.

Os bairros formam os municípios e estes formam os estados, que, por sua vez, formam o Brasil.

a) **ESCREVA (C)** para as afirmativas corretas e **(I)** para as incorretas.

- () O Brasil é formado por 27 unidades federativas: 26 estados e o Distrito Federal.
- () O município é formado por todos os bairros de um determinado estado.
- () O município é formado, geralmente, pelos espaços urbano e rural.
- () O espaço urbano de um município é formado pelo conjunto de bairros urbanos.
- () O estado é formado pelo conjunto dos seus municípios.

02. Observe o mapa abaixo.



Fonte: <http://contextogeografico.blogspot.com.br>.

- **ESCREVA**, no mapa, os nomes e a sigla da unidade da Federação onde você vive.

- **ESCREVA**, no mapa, os nomes de outras quatro unidades da Federação.

03.

Os hábitos alimentares são diferentes nas regiões brasileiras.

ESCREVA o nome da região à qual se refere cada hábito alimentar.

Nós gostamos de consumir, no café da manhã, diversos tipos de pães, biscoitos e bolos. O pão de queijo é muito apreciado.

Região: _____



Nós gostamos de consumir, no café da manhã, tapioca, beiju, peixe com açaí fresco, sanduíche de tucumã.

Região: _____

04. **ASSINALE** a alternativa correta.

Em relação aos movimentos migratórios no Brasil, podemos afirmar:

- () Ocorrem apenas do Nordeste para outras regiões do País, nunca ao contrário.
- () Resultam da desigualdade social e da falta de oportunidade para melhorar de vida.
- () Diminuíram, atualmente, de forma significativa, devido à boa condição do país.
- () Registram-se os maiores fluxos migratórios originários da região Sudeste com destino à região Norte.

05. Veja o planisfério.



Disponível em: <www.tocaestudar.blogspot.pt/globo-e-planisferio-520>. Acesso em: 02 maio 2017.

a) Faça o que se pede.

- **TRACE**, com lápis vermelho, a Linha do Equador.
- **TRACE**, com lápis amarelo, o Meridiano de Greenwich.
- **PINTE** de verde o Brasil

b) **COMPLETE** as lacunas.

- A linha do Equador é um _____
que divide a Terra em hemisférios _____ e _____.
- O Meridiano de Greenwich é um _____
que divide a Terra em hemisférios _____ e _____
- Nosso país está localizado nos hemisférios _____,
_____ e _____.
- Os paralelos que “cortam” o Brasil são _____
e _____.
- O Brasil faz parte do Continente _____.